

1. Bu testte 60 soru vardır.

2. Cevaplarınızı, cevap kâğıdının Genel Yetenek Testi için ayrılan kısmına işaretleyiniz.

1. Acı, yalnızlık ve umutsuzluk Bacon'ın dünyasının ---- sözcükleri değil, onun gerçeğini olduğu gibi ---- sözcükler. O dünyayı açıklayabilecek, o dünyayı adlandırabilecek sözcükler.

**Bu parçada boş bırakılan yere aşağıdakilerden hangisi getirilmelidir?**

- A) somut - dile getiren                      B) gizemli - yansıtan  
C) büyü - kanıtlayan                      D) duygusal - reddeden  
E) boş - baştan savan

2. Onun amacı sanatının ustası olmaktı. Oldu. Fakat anlayışının ve ustalığının rahatına erdi. Bundan sonra yapacakları tekdüze olacak. Yazdıkları başkalarının, okurlarının yine hoşuna gidecek belki ama daha ötesi olmayacak.

**Bu parçadaki altı çizili sözle anlatılmak istenen aşağıdakilerden hangisidir?**

- A) Yazma hevesini kaybetmek  
B) Kendini yenileyememek  
C) Hedefini belirleyememek  
D) Gündelik sıkıntılardan kurtulmak  
E) Emeğinin karşılığını almak

3. (I) Tüm dünyada ve ülkemizde hayvanlara, özellikle sokak hayvanlarına yönelik farkındalık ve duyarlılık artmaktadır. (II) İnsanların diğer canlıların yaşam hakları konusunda bilinç kazanmaları olumlu bir gelişmedir. (III) Bu gelişmenin önemli bir nedeni sosyal medyanın yaygınlaşması sonucu bu ortamlarda konuyla ilgili yapılan paylaşımlardır. (IV) Oysa insanlar doğal yaşam alanları ellerinden alınan hayvanlarla sokaklarda, duvar diplerinde ve sitelerin çevresinde her zaman karşılaşmaktaydı. (V) Burada ilginç olan, insanların yaşayıp gördüklerinden ziyade sanal âlemde yapılan fotoğraf ve video paylaşımlarından etkilenmeleridir.

**Bu parçadaki numaralanmış cümlelerin hangisinde karşılaştırmaya başvurulmuştur?**

- A) I.                      B) II.                      C) III.                      D) IV.                      E) V.

4. (I) Arılar, çiçeklerden propolis adı verilen kokulu bir reçine toplar. (II) Bu reçineyi bal mumu ile karıştırdıktan sonra macunumsu bir malzeme hazırlayarak bununla petekleri sıvar, sağlamlaştırır. (III) Peteklerdeki bal özünün nem seviyesini düşürmek için bir havalandırma ekibi kovanda sürekli çalışır. (IV) Deneyimli arıların başkanlık ettiği bir grup arı kovan girişinin önünde, diğer bir grup ise peteğin yakınında kanat çırparak sürekli hava akımı oluşturur. (V) Bu faaliyet, bal özündeki suyun oranı yüzde yirmiye inene kadar devam eder.

**Bu parçadaki numaralanmış cümlelerle ilgili olarak aşağıdakilerden hangisi yanlıştır?**

- A) I. cümlede nesnel bir yargı vardır.  
B) II. cümlede benzetme yapılmıştır.  
C) III. cümlede amaç-sonuç ilişkisi vardır.  
D) IV. cümlede örneklere yer verilmiştir.  
E) V. cümlede sayısal veriden yararlanılmıştır.

5. (I) Çeşitli incelemeler için Messenger adlı bir sondaj aracı Merkür gezegenine gönderildi ve uzay araştırmacılarına Merkür ile ilgili önemli bilgiler sağladı. (II) Araç, gündüz ve gecelerin çok uzun, buna karşın Merkür yılının çok kısa sürdüğünü gözlemledi. (III) Ayrıca Merkür'ün yüzeyinin kalay ve kurşun gibi metalleri eritebilecek kadar sıcak olduğunu tespit etti. (IV) Dünya'da olduğu gibi Merkür'de de devasa bir mıknaş çubuğu gibi gezegene etki eden kuzey ve güney kutuplu bir iç manyetik alanın bulunduğunu saptadı. (V) Güneş Sistemi'nde yer alan ve bir iç gezegen olan Merkür'ün, yörüngesinde dönmesinin çok zaman aldığını da kaydetti.

**Merkür'den söz eden bu parçadaki numaralanmış cümlelerle ilgili olarak aşağıdakilerden hangisi yanlıştır?**

- A) I. cümlede, gezegenin üzerinde araştırmalar yapıldığından bahsedilmiştir.
- B) II. cümlede, gezegende aydınlık ve karanlık geçen sürelerle değinilmiştir.
- C) III. cümlede, gezegende bulunan maddelerden söz edilmiştir.
- D) IV. cümlede, gezegenin Dünya'ya benzeyen yönü belirtilmiştir.
- E) V. cümlede, gezegenin Uzay'daki yeri ve ekseninde durulmuştur.

6. (I) İstanbul, büyük mimari eserlerin olduğu kadar küçük köşelerin, sürpriz manzaraların da şehridir. (II) Büyük eserler, şehrin dış görüntüsünü yansıtır; ikinciler ise onu çizgi çizgi işleyerek portrenin içini doldurur ve yaşanmış hayat izleriyle tamamlar. (III) Süleymaniye Külliyesi bütün ihtişamıyla şehrin silüetini oluştururken yan yana dizilmiş cumbalı evleriyle eski bir İstanbul sokağı, sizi kendine hayran bırakabilir. (IV) Şehrin mahremiyetinde âdeta eriyip ona karışmış hissini veren küçük camiler, medreseler, çeşmeler de ait oldukları büyük yapının bir parçası olarak çok güzeldirler. (V) İster görkemli olsun ister mütevazı, ister taş olsun ister ahşap, hepsinin güzelliğinde asıl pay mimarlığındır.

**Bu parçadaki numaralanmış cümlelerle ilgili olarak aşağıdakilerden hangisi yanlıştır?**

- A) I. cümlede, İstanbul'un çeşitli yönleri bir arada verilmiştir.
- B) II. cümlede, şehirdeki binaların mimari özellikleri sıralanmıştır.
- C) III. cümlede, tarihsel dokunun kişiler üzerinde bıraktığı izlenim dile getirilmiştir.
- D) IV. cümlede, bütünü oluşturan parçaların birbiriyle olan uyumu vurgulanmıştır.
- E) V. cümlede, değişik yapıları ortak noktada birleştiren özelliğe değinilmiştir.

7. Hırkasını çekiştirdi, bir sandalyenin kenarına ilişti ve azıcık soluklandı. Bir iki kere konuşmaya yeltendi, sonra eliyle ağzını hafifçe kapatarak şarkı söylüyormuşçasına mırıldanmaya başladı.

**Bu parçada aşağıdaki ses olaylarından hangisi görülmemektedir?**

- A) Ünlü düşmesi                      B) Ünsüz benzeşmesi
- C) Ünlü daralması                    D) Ünsüz yumuşaması
- E) Ünlü türemesi

8. Ben on bir yaşındayken babam beni önceleri üç sinemanın bulunduğu Şehzadebaşı semtine götürdü.

**Bu cümlelerin öğeleri sırasıyla aşağıdakilerden hangisidir?**

- A) Zarf tümleci - belirtili nesne - özne - dolaylı tümleç - yüklem  
 B) Özne - zarf tümleci - belirtili nesne - dolaylı tümleç - yüklem  
 C) Zarf tümleci - özne - belirtili nesne - dolaylı tümleç - yüklem  
 D) Dolaylı tümleç - özne - belirtili nesne - zarf tümleci - yüklem  
 E) Özne - dolaylı tümleç - belirtili nesne - zarf tümleci - yüklem

9. (I) İnsanı diğer canlılardan ayıran özelliklerin başında soyut düşünemesi ve düşüncelerini dil aracılığıyla ifade edebilmesi gelir. (II) Düşünme, insan davranışlarının en karışık formunu oluştururken zihinsel faaliyetlerinin de en üst düzeyini belirler. (III) İmajlar, şekiller, hayaller ve deneyimlerin yer aldığı bu süreç son derece karmaşıktır. (IV) Bu sürecin birbirinden farklı biçimleri vardır. (V) Örneğin bir matematik problemi çözen veya yaz tatili için plan yapan bir öğrenci, değişik formlarda düşünmektedir.

**Bu parçadaki numaralanmış cümlelerin hangisinde fiilimsi kullanılmamıştır?**

- A) I.      B) II.      C) III.      D) IV.      E) V.

10. Boğaz ( ) sanki Marmara Denizi'ne inat olsun diye ve kırılğan geçecek bir mevsimi haber verircesine her şeyi birbirine yaklaştırmıştı ( ) mavi suları, balıkları, martıları ( ) Bu mavi gerdanlık ( ) esmeyi unutmuş eski bir rüzgârı, yeni boyanmış ama kurumamış bir sandalı ve Beykozluların komşu seslerini bir arada tutuyordu.

**Bu parçada ayraçla ( ) belirtilen yerlere aşağıdakilerin hangisinde verilen noktalama işaretleri sırasıyla getirilebilir?**

- A) (;) (,) (... ) (;)  
 B) (,) (;) (.) (;)  
 C) (,) (,) (... ) (;)  
 D) (,) (;) (.) (;)  
 E) (,) (;) (... ) (;)

11. Aşağıdaki cümlelerden hangisinde altı çizili sözcüğün yazımı yanlıştır?

- A) Hedefe çabuk ulaşmak için talî yollarda oylanmamak lazımdır.  
 B) Şehrimizin tarihi yerlerini tanıtmak amacıyla bir belgesel hazırlandı.  
 C) Edebî kişiliğiyle Yahya Kemal, Türk şiirinin abidelerindendir.  
 D) İş yerinize ticari unvanınızı gösteren vergi levhasını asmalısınız.  
 E) Siyasi sorunların üstesinden gelmenin en iyi yolu birlik olmaktır.

12. (I) Aydın'ın Geyre beldesinde antik kent kazıları ilk olarak 1904 yılında başlamış, fakat sonradan bir şekilde bunların devamı getirilememiş ve kalıntılar kendi hâline bırakılmış. (II) 1958 yılında yolu tesadüfen buraya düşen ünlü fotoğraf sanatçısı Ara Güler, insanların kalıntılardan çıkan parçaları evlerinde çeşitli amaçlarla kullandıklarını fark etmiş. (III) Anadolu insanı tarih boyunca birçok yörede antik kalıntıları yaşama alanlarında yapı malzemesi olarak kullanmış. (IV) Geyre'de çıkarılan parçaların kullanıldığı yapıların fotoğraflarını çeken Güler, bu fotoğrafları yurt dışındaki dergilerde paylaşmış. (V) Fotoğrafları gören yabancı araştırmacılar, 1961 yılında bölgede yeniden kazı çalışmalarına başlamış.

**Bu parçadaki numaralanmış cümlelerden hangisi düşüncenin akışını bozmaktadır?**

- A) I. B) II. C) III. D) IV. E) V.

13. (I) Modern Türk romanı dendiğinde aklımıza ilk gelen isimlerden biri Yaşar Kemal'dir. (II) Dili, her okuyuşta bir su gibi akarak okuyucuyu bilinmedik denizlere götürür. (III) Kendinden, ülkesinden, doğasından, insanından el alıp coşkuyla satırlara dökülür bu dil. (IV) Anlatımını hece hece, kelime kelime, cümle cümle dokuyarak meydana getirir. (V) Yazar, efsane ile gerçeklik arasında duyguların, tatların ve kokuların zirveye çıktığı çok katmanlı bir yapıdan hareketle, modern edebiyatın gelenekle bağını kurar. (VI) Öykü ve romanlarında geçmiş, şimdi ve gelecek; ayrıntı ve değerlerini koruyarak bir araya gelir.

**Bu parça iki paragrafa ayrılmak istense ikinci paragraf hangi cümleyle başlar?**

- A) II. B) III. C) IV. D) V. E) VI.

14. Madem üniversite yıllarımdan söz etmekle başladım, nostaljimin içine biraz fasulye katayım diyorum. Liseden mezun olalı iki yıl olmuş, artık yurt dışında hukuk öğrencisiyim. Yaz tatilinde İstanbul'a geldiğimde liseden can arkadaşım Yusuf'la Maltepe'de buluşup hasret gidermek, ortak anılarımızı tazelemek ne hoştu. O gün buluştuğumuzda kendimizi bir vapura attık ve Büyükkada'ya gittik. Karnımız acıkınca yemek yiyecek bir yer aramaya koyulduk. Küçük ve mütevazı bir sokak içi lokantası fark ettik. Hemen oturup iki kuru fasulye söyledik. Ada'daki günün güzelliğinden midir bilmem, orada yediğim fasulyenin tadını bugün bile unutamam.

**Bu parçanın anlatımıyla ilgili olarak aşağıdakilerden hangisi söylenebilir?**

- A) İçtenlik söz konusudur.  
B) Eleştirel bir tutum sergilenmiştir.  
C) Genellemelere başvurulmuştur.  
D) Onaylayıcı ifadeler yer verilmiştir.  
E) Tarafsız bir bakış açısı vardır.

15. Dostluk... Güzel bir sözcük. Neler söylenmemiş, neler yazılmamış bu konuda. Ne desem eski, ne yazsam boş. İnsanoğlu, kendini bildi bileli dostluğu diğer ilişkilerden üstün tutmuş. Kişi, dost bildiğine sarılmış dört elle. Dostunu dünyanın en güvenilir, en inanılır insanı bellemiş. Fakat zaman zaman ----.

**Bu parçanın sonuna düşüncenin akışına göre aşağıdakilerden hangisi getirilmelidir?**

- A) dostlarını kaybetmemek için her türlü fedakârlığı yapmış  
B) düş kırıklığına uğramış ve dostluğa olan inancını yitirmiş  
C) kurduğu dostlukları güçlendirmek için çaba sarf etmiş  
D) dostluk sayesinde dünyanın yaşanabilir olduğuna inanmış  
E) dostunun sözüyle duygulanmış ve gayretlenmiş

16. Hepimiz yaşadıklarımızı bir tecrübeye dönüştürecek kapasiteye sahip olmamıza rağmen hayatın akışı içinde önce deniyor, yanlışlara düşüyor sonra da yanlışlarımızdan dersler çıkarıyoruz. Böylece daha ihtiyatlı davranmayı öğreniyoruz.

**Bu parçada anlatılmak istenen düşünceye en yakın atasözü aşağıdakilerden hangisidir?**

- A) Sütten ağzı yanan yoğurdu üfleyerek yer.
- B) Damdan düşen, damdan düşenin hâlini bilir.
- C) Abanın kadri yağmurda bilinir.
- D) Acemi katır kapı önünde yük indirir.
- E) Baca eğri de olsa duman doğru çıkar.

17. Çağımızda insanlar, hayatın nihai anlamına yönelik asıl sorularla uzun uzadıya uğraşmak ve bu sorular üzerine kafa yormak istemiyor. Bilgiyi oluşturmaktan çok onu hızlıca bulmayı amaçlıyor. Modern iletişim araçları da hâliyle tüketim toplumunun genel yapısına uygun olarak bilgiyi bir nesneye dönüştürüp üretiyor, sonra kitlesel tüketime sunuyor. Bu döngünün içinde herkes bir tür bilgi hâli istiyor gibi. Kestirmeden, çabuk, kullanışlı ve yorucu olmayan bilgi hâlleri... İşte elektronik kitap ve ansiklopediler, bilgisayarlar ve tablet gibi araçlar, üretilen bilgiyi en kısa yoldan ve her an tüketilebilir şekilde sunmak üzere her gün biraz daha geliştiriliyor.

**Bu sözler aşağıdaki sorulardan hangisinin cevabı olarak söylenmiş olabilir?**

- A) Bilgi çağı, insanların eğitim ve çalışma hayatını hangi araçlardan etkiliyor?
- B) İletişim araçlarının ürettiği bilgilerin güvenilirliği hangi ölçütlere göre belirleniyor?
- C) Bilgiye kolay ve zahmetsiz ulaşmak için insanların ne yapması gerekiyor?
- D) Günümüzde iletişim ve bilgi araçları sizce neden hızlı bir gelişim gösteriyor?
- E) İnsanlar yeni bir bilginin üretilemeyeceğini düşündüğü için mi tekrara düşüyor?

18. Goethe bir eserinde şöyle der: "Ben birçok arabacının, atların koşumu olmadan araba çektiğini gösteren resimlerle alay ettiklerini duydum. Arabacı böyle resimlerle alay etmekte haklıdır ama atın güzel şeklini çirkin çizgilerle bozmak istemeyen ressamın da burada hakkı vardır."

**Bu parçada Goethe aşağıdakilerden hangisini vurgulamak istemektedir?**

- A) Gündelik yaşamı konu edinen sanat eserleri, çok fazla eleştiri alabilir.
- B) Sanatçı, yaratıcı olmak için gerçekliğe aykırı eser ortaya koymamalıdır.
- C) Sanat eserleri, estetiği sağlamak amacıyla gerçeklikten uzaklaşabilir.
- D) Sanat eserinin gerçek anlamını sanatçılar ve eleştirmenler anlayabilir.
- E) Sanatçı, hayal edemediği şeyleri eserlerine konu etmemelidir.

19. Okurlarımız için yeni ve özgün bir kitap hazırladık. Bu kitapta atasözü ve Nasrettin Hoca fıkraları gibi zaman zaman eğlenceli bir dille yazılan ögelere yer verdik. Çeşitli çevre konularında Türkiye ile ilgili bilgiler bulunmasına özellikle dikkat ettik, yeri geldikçe kültürel motifler kullandık. Ekolojinin gizemli bir bilim dalı değil de yaşamın bir parçası olduğunu göstermek için halk inançları, felsefe ve edebiyatımızdan örnekler verdik.

**Bu parçada sözü edilen kitapla ilgili olarak aşağıdakilerden hangisine değinilmemiştir?**

- A) Bilimle gerçek hayatı buluşturan yönler içerdiğine
- B) Farklı alanlara ilişkin ögelerden yararlandığına
- C) Toplumun değer ve deneyimlerine yer verdiğine
- D) Yoğun bir bilimsel dil kullanmaktan kaçınıldığına
- E) Her yaştan okura hitap edecek şekilde hazırlandığına

20. "Türkiye'nin Pisa Kulesi" denilen Aksaray'daki minare, Selçuklu sultanlarından Alaeddin Keykubat'ın babası I. Keyhüsrev tarafından 1221-1236 yılları arasında yaptırılmış. Kırmızı tuğlayla örüldüğü için "Kızıl Minare", ekseninde 27 derece eğiklik olduğu için de "Eğri Minare" diye anılır. Silindirik gövdesinin alt kısmı zikzaklı bezemeler, üst kısmıysa çoğu dökülmüş mavi-yeşil çinilerle süslüdür.

**Bu parçada, sözü edilen minareyle ilgili olarak aşağıdakilerden hangisine değinilmemiştir?**

- A) Kim tarafından yaptırıldığına  
B) Dış mimari özelliklerine  
C) Yapılan adlandırmanın gerekçesine  
D) Yapısındaki bozulmaların nedenine  
E) Yapımında ne tür malzeme kullanıldığına
21. Okumak insanın doğasına yön verir. İnsanın doğuştan gelen yetenekleri kendiliğinden çıkan bitkilere benzer; okumakla budanmaları lazımdır. Tecrübe ile yetişen kimseler okumayı hor görürken bilginler ondan yararlanır. Okumanın insanı ulaştırdığı nokta ise, tahsile ihtiyaç duymadan, onun ötesine varan bir kuvvetle, zamanla elde edilen bir bilgeliktir. Kitaplar, ne bir şeyi çürütmek ne bir yanlışı bulmak için okunmalı. Kitaplar, verdiği bilgiler zaten ispat edilmiş diye olduğu gibi kabul edilip sohbe konu olsun veya konuşmalarda ukalalık yapılsın diye de okunmamalı. Bazı kitaplardan yalnız haz alınır, bazıları olduğu gibi yutulur, bazıları ise uzun uzun çiğnenir ve sonra hazmedilir.

**Bu parçadan aşağıdaki yargıların hangisine ulaşamaz?**

- A) Okuma eylemi farklı insanlarda farklı izlenimler bırakır.  
B) Faydacı bir yaklaşımla kitap okunmamalıdır.  
C) Okumanın olgunluğa eriştiren uzun soluklu bir etkisi vardır.  
D) İçeriği sorgulanmadan yapılan okuma eyleminden kaçınılmalıdır.  
E) Okunması zevkli olan kitaplar daha çok okuyucu bulur.

**22. - 23. soruları aşağıdaki parçaya göre cevaplayınız.**

Biri bana kendi şiirini okuyup da düşüncemi soracak diye korkarım hep. Çünkü bu durumda ne diyeceğimi şaşırıyorum. Kapkara bir duygu çöküyor içime. Çevremdekilerin bana verdiği değerden yüz bularak bilgiçlik taslıyor olma ihtimali beni rahatsız ediyor. Bu yüzden utanıyorum, sıkılıyorum. Çünkü iki yönü var bu işin: şiiri okuyana söyleyecekleriniz ve gerçekten düşündükleriniz. Hatta çoğunlukla bir üçüncü yön bile ortaya çıkabiliyor, o da şiirin size hiçbir şey düşündürmediği. Peki ben ne yapıyorum? Susuyorum, çünkü kimseyi kırmak istemiyorum.

**22. Bu parçada konuşan kişi aşağıdakilerden hangisiyle nitelendirilebilir?**

- A) Öz güvenli  
B) Şüpheli  
C) Kırılgan  
D) İyi niyetli  
E) Hoşgörülü

**23. Bu parçanın yazarı aşağıdakilerin hangisinden yakınmaktadır?**

- A) Düşüncelerini saklamak zorunda kalmaktan  
B) Başkaları tarafından rahatsız edilmekten  
C) Duygularının yüzüne yansımından  
D) Şiirde niteliğin gittikçe bozulmasından  
E) Şairlerin kendilerini fazla önemsemesinden

**24. - 26. soruları aşağıdaki parçaya göre cevaplayınız.**

(I) Sarı Irmak, Asya'nın kırıç topraklarından ayrılır ve yumuşak lös topraklarının ortasından geçer. (II) Bu verimli bölgedeki kolay işlenen topraklara, arada bir beklenmedik sellere yol açabilen sağanak yağmurlar düşer. (III) Bazen yağışların azlığı bazen de muson yağmurlarının yöreye hiç ulaşamaması sebebiyle ürünlerin zarar gördüğü mevsimler olur. (IV) Neolitik Dönem'in çiftçileri, Sarı Irmak boyunca takip eden istikrarsız tarım çevresinde MÖ 3000'lerde akdari yetiştirmeye başladılar. (V) Yörenin çiftçileri daha sonra Orta Doğu'dan gelen buğday ile arpa ve Asya'nın muson bölgesinden gelen pirinç tahıllarının tarımını da öğrendiler. (VI) Ancak suyun kritik derecede kıt olabildiği bir bölgede pirincin, susuzluğa daha dayanıklı olan akdari, buğday ve arpa gibi ürünlerin yerini alması da beklenemezdi.

**24. Bu parçaya göre Sarı Irmak çiftçileriyle ilgili olarak aşağıdakilerden hangisi kesinlikle doğrudur?**

- A) Yetersiz tarım bilgisine sahip oldukları
- B) Ürün çeşitliliğine çok önem verdikleri
- C) Ticari kaygılardan uzak oldukları
- D) Üretim için yanlış bir bölge seçtikleri
- E) Etkileşime ve yeniliğe açık oldukları

**25. Bu parçada Sarı Irmak bölgesiyle ilgili olarak aşağıdakilerden hangisine değinilmemiştir?**

- A) Coğrafi konumuna
- B) Görülen yağış biçimlerine
- C) Su taşkınlarına
- D) Toprak özelliklerine
- E) Kullanılan tarım yöntemlerine

**26. Bu parça iki paragrafa ayrılmak istense ikinci paragraf hangi cümleyle başlar?**

- A) II.
- B) III.
- C) IV.
- D) V.
- E) VI.

**27. - 30. soruları aşağıdaki bilgilere göre birbirinden bağımsız olarak cevaplayınız.**

Ahmet, Bekir, Ceren, Demir, Elif, Fatma ve Galip isimli öğrenciler ders kayıtları sırasında kimya, matematik veya tarih derslerinden birini seçmiştir. Öğrencilerin ders seçimlerine ilişkin kimi bilgiler şu şekildedir:

- Matematik dersini üç kişi seçmiştir.
- Kimya dersini seçen iki kişiden biri Elif'tir.
- Bekir ve Ceren aynı dersi seçmiştir.
- Demir, Elif ve Fatma adlı öğrencilerden her biri farklı dersleri seçmiştir.

**27. Buna göre;**

- Ahmet,
- Demir,
- Fatma

**adlı öğrencilerden hangileri tarih dersini seçmiş olabilir?**

- A) Yalnız I                      B) Yalnız II  
C) I ve II                      D) I ve III  
E) I, II ve III

**28. Aşağıdaki öğrencilerden hangileri aynı dersi seçmiş olamaz?**

- A) Ahmet ve Fatma              B) Ahmet ve Galip  
C) Bekir ve Demir              D) Ceren ve Fatma  
E) Elif ve Galip

**29. Aşağıdakilerden hangisi kesin olarak doğrudur?**

- A) Ceren matematik dersini seçmiştir.  
B) Demir matematik dersini seçmiştir.  
C) Fatma tarih dersini seçmiştir.  
D) Galip tarih dersini seçmiştir.  
E) Bekir tarih dersini seçmiştir.

**30. Aşağıdaki öğrencilerden hangilerinin aynı dersi seçtiği bilinirse tüm öğrencilerin seçtiği dersler kesin olarak bilinebilir?**

- A) Ahmet ve Demir              B) Ahmet ve Elif  
C) Bekir ve Fatma              D) Ceren ve Galip  
E) Bekir ve Elif



$$31. \frac{\left(\frac{1}{5} + \frac{7}{15}\right)^{-2}}{1 + \frac{1}{8}}$$

işleminin sonucu kaçtır?

- A) 5    B) 4    C) 3    D) 2    E) 1

$$32. \frac{1 + 3 + 3^2}{1 + 3^{-1} + 3^{-2}}$$

işleminin sonucu kaçtır?

- A) 1    B) 3    C) 81    D) 27    E) 9

$$33. \frac{2^5 \cdot 5^2 + 2 \cdot 10^2}{2^4 \cdot 10 + 2^3 \cdot 5}$$

işleminin sonucu kaçtır?

- A) 1    B) 2    C) 3    D) 4    E) 5

$$34. \sqrt[3]{\left(\frac{-1}{4}\right)^7 \cdot 2^8}$$

işleminin sonucu kaçtır?

- A)  $\frac{-1}{2}$     B)  $\frac{-1}{4}$     C)  $\frac{-1}{8}$   
D) -2    E) -1

$$35. 2\sqrt{x-1} = 2\sqrt{x} - 1$$

eşitliğini sağlayan x değeri kaçtır?

- A)  $\frac{9}{4}$     B)  $\frac{16}{9}$     C)  $\frac{25}{16}$   
D)  $\frac{36}{25}$     E)  $\frac{49}{36}$

36.  $a = \frac{5}{2}$   
 $b = \sqrt{5}$   
 $c = \sqrt[3]{11}$

olduğuna göre, aşağıdaki sıralamalardan hangisi doğrudur?

- A)  $a < b < c$                       B)  $a < c < b$   
 C)  $b < a < c$                       D)  $b < c < a$   
 E)  $c < b < a$

37.  $\frac{ac + 2c + 3a + 6}{bc - c + 3b - 3}$

ifadesinin sadeleştirilmiş biçimi aşağıdakilerden hangisidir?

- A)  $\frac{a+1}{b+1}$                       B)  $\frac{a+2}{b-1}$                       C)  $\frac{a+3}{b-2}$   
 D)  $\frac{a}{b+2}$                       E)  $\frac{a-1}{b}$

38.  $\frac{|4-3x|}{|x+3|} = 2$

eşitliğini sağlayan  $x$  değerlerinin çarpımı kaçtır?

- A) -1    B) -2    C) -4    D) -6    E) -8

39.  $x$  ve  $y$  gerçel sayıları

$$x \cdot y > 0$$

$$x > y$$

eşitsizliklerini sağlıyor.

Buna göre,

I.  $\frac{1}{y} > \frac{1}{x}$

II.  $\frac{x}{y} > 1$

III.  $x + y > 0$

ifadelerinden hangileri her zaman doğrudur?

- A) Yalnız I                      B) Yalnız III                      C) I ve II  
 D) I ve III                      E) II ve III

40.  $A = \{1, 2, 3, 4\}$   
 $B = \{2, 4, 6, 8\}$

kümeleri veriliyor.

**Buna göre, A kümesinin alt kümelerinden kaç tanesinin B kümesiyle kesişimi boş kümeden farklıdır?**

- A) 8      B) 10      C) 12      D) 14      E) 16

41. Pozitif gerçel sayılar kümesi üzerinde f ve g fonksiyonları

$$f(x) = 3^{2x}$$

$$g(x) = x^2$$

biçiminde tanımlanıyor.

**Buna göre,**

$$\frac{f(a) - g(a)}{a + f\left(\frac{a}{2}\right)} = 3 - a$$

**eşitliğini sağlayan a değeri kaçtır?**

- A) 1      B) 2      C) 3      D) 4      E) 5

42. n bir tam sayı olmak üzere,

$$A = \{1, 2, 3, 4, 5, 6, 7, 8\}$$

kümesi üzerinde bir  $f : A \rightarrow A$  fonksiyonu

$$f(a) = n - a$$

biçiminde tanımlanıyor.

**Buna göre, n kaçtır?**

- A) 7      B) 8      C) 9      D) 10      E) 11

43. Gerçel sayılar kümesi üzerinde  $\otimes$  işlemi, her x ve y gerçel sayısı için

$$x \otimes y = x^2 + x \cdot y + 1$$

biçiminde tanımlanıyor.

a ve b gerçel sayıları için  $a \otimes b = b \otimes a$  olmak üzere,

I.  $|a| = |b|$

II.  $a = b$

III.  $a = -b$

ifadeleri veriliyor.

**Buna göre, yukarıdaki ifadelerden hangileri her zaman doğrudur?**

- A) Yalnız I      B) Yalnız II      C) Yalnız III  
D) II ve III      E) I, II ve III

44. İki basamaklı AB doğal sayısının 5'e bölümünden kalan 2, 6'ya bölümünden kalan 4 oluyor.

**Buna göre, bu koşulu sağlayan AB sayılarının toplamı kaçtır?**

- A) 148 B) 156 C) 162 D) 174 E) 180

45. Bir manav, tanesini belirli bir fiyattan aldığı karpuzların her birini 8 eşit dilime bölerek her dilimi aynı fiyattan satmaktadır. 3 dilim karpuzun satış fiyatı, 1 bütün karpuzun alış fiyatına eşittir. Manav 12 karpuz alıp tamamını sattığı gün 150 TL kâr elde etmiştir.

**Buna göre, 1 dilim karpuzun satış fiyatı kaç TL'dir?**

- A) 1,2 B) 1,5 C) 2 D) 2,5 E) 3

46.  $a_1 = 1$  olmak üzere, her  $n \geq 2$  doğal sayısı için  $a_n$  sayısı

$$a_n = 10^{n-1} + a_{n-1}$$

biçiminde tanımlanıyor.

**$a_k + a_6 + a_4 + a_2$  toplamından elde edilen sayının basamaklarındaki rakamların toplamı 25 olduğuna göre, k kaçtır?**

- A) 19 B) 17 C) 15 D) 13 E) 11

47. Ali ve Berk toplam 500 kişiye bir anket yapmıştır. Ali'nin anket yaptığı kişilerin % 60'ı, Berk'in anket yaptığı kişilerin ise % 30'u kadındır.

**Ankete katılan kişilerin % 61'i erkek olduğuna göre, Ali'nin anket yaptığı toplam kişi sayısı kaçtır?**

- A) 100 B) 150 C) 200 D) 250 E) 300

48. Kırmızı ve beyaz renkte belirli sayıda topun bulunduğu bir torbada, bir kırmızı topun ağırlığı bir beyaz topun ağırlığının 2 katıdır. Torbaya 5 beyaz top ekleniyor, bu durumda beyaz topların toplam ağırlığı, kırmızı topların toplam ağırlığının 2 katına eşit oluyor.
- Son durumda torbada toplam 50 top olduğuna göre, başlangıçta torbada kaç beyaz top vardır?**
- A) 15    B) 20    C) 25    D) 30    E) 35

49. Bir mağaza, satışları artırmak için gömleklere etiket fiyatı üzerinden % 25 indirim uyguluyor. Mağazadan iki tane gömlek alan bir müşteriye ikinci gömlek için indirimli fiyat üzerinden % 25 indirim daha yapıyor.
- Mağaza bu satıştan % 5 kâr elde ettiğine göre, gömleklerin etiket fiyatı yüzde kaç kârla belirlenmiştir?**
- A) 80    B) 60    C) 50    D) 40    E) 30

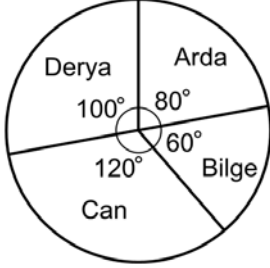
50. Ahmet 3 yıl önce doğmuş olsaydı, babasının bugünkü yaşı Ahmet'in bugünkü yaşının 4 katı olacaktı.
- Ahmet doğduğu zaman babası 39 yaşında olduğuna göre, Ahmet'in bugünkü yaşı kaçtır?**
- A) 6    B) 7    C) 8    D) 9    E) 10

51. Bir minibüs A ve B şehirleri arasındaki yolu sabit hızla 5 saatte gidiyor. Bu minibüs hızını saatte 30 kilometre azaltırsa aynı yolu 8 saatte gitmektedir.
- Buna göre, A ve B şehirleri arasındaki yol kaç kilometredir?**
- A) 300    B) 320    C) 400    D) 480    E) 500

52. 25 kişilik bir sınıftaki öğrencilerin isimlerindeki harf sayılarının ortalaması 4,8 ve soyisimlerindeki harf sayılarının ortalaması 8'dir. Bu sınıftan 5 öğrenci ayrıldığında kalan öğrencilerin isimlerindeki harf sayılarının ortalaması 5 ve soyisimlerindeki harf sayılarının ortalaması 7,6 oluyor.
- Buna göre, ayrılan öğrencilerin isim ve soyisimlerinde toplam kaç harf vardır?**
- A) 54    B) 60    C) 68    D) 74    E) 80
53. Ali bilyelerinin  $\frac{2}{5}$ 'ini Burak'a verirse Burak'ın 77 tane bilyesi oluyor. Burak bilyelerinin  $\frac{2}{5}$ 'ini Ali'ye verirse Ali'nin 98 tane bilyesi oluyor.
- Buna göre, Ali ve Burak'ın toplam kaç bilyesi vardır?**
- A) 120    B) 125    C) 130    D) 135    E) 140
54. Bir ofiste çalışan 4 uzman ve 6 uzman yardımcısından her biri, temmuz veya ağustos aylarından birinde olmak üzere, bir aylık izin kullanacaktır. Bu ofisteki müdür, bu aylardan her birinde tüm çalışanların yarısı izinli olacak biçimde bir planlama yapmak istiyor.
- Hem temmuz ayında hem de ağustos ayında ofiste en az bir uzman bulunması gerektiğine göre, kaç farklı planlama yapılabilir?**
- A) 240    B) 244    C) 256    D) 268    E) 280
55. Hilesiz bir zar art arda 3 kez atılmaktadır.
- Birinci atışta gelen sayının, sonraki atışlarda gelen sayıların toplamına eşit olma olasılığı kaçtır?**
- A)  $\frac{5}{6}$     B)  $\frac{7}{36}$     C)  $\frac{11}{36}$
- D)  $\frac{7}{72}$     E)  $\frac{5}{72}$

56. - 57. soruları aşağıdaki bilgilere göre birbirinden bağımsız olarak cevaplayınız.

Aşağıda bir bahçenin dört kardeş arasındaki pay dağılımını gösteren daire grafiği verilmiştir.



56. Arda ve Derya paylarından vazgeçmiş ve bu paylar diğer kardeşler arasında eşit olarak paylaşmıştır.

**Buna göre, Can'ın payı yüzde kaç artmıştır?**

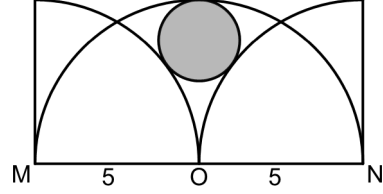
- A) 50    B) 75    C) 100    D) 125    E) 150

57. Toplam 7200 metrekare olan bahçedeki kendi paylarının tamamını satan Derya ve Bilge, bu satıştan eşit miktarda para elde etmiştir.

**Derya kendi payının metrekaresini 180 TL'ye sattığına göre, Bilge kendi payının metrekaresini kaç TL'ye satmıştır?**

- A) 200    B) 240    C) 300    D) 320    E) 360

58.



Şekildeki boyalı daire, yarıçapları 5 birim olan M ve N merkezli çeyrek çemberlere dıştan, O merkezli yarım çembere ise içten teğettir.

**Buna göre, boyalı dairenin yarıçapı kaç birimdir?**

- A)  $\frac{4}{3}$     B)  $\frac{5}{4}$     C)  $\frac{5}{6}$   
D) 1    E) 2

59. Bir kenar uzunluğu 2 birim olan bir küpün

- birbirine paralel olmayan,
- ortak bir noktası olmayan,

herhangi iki kenarının orta noktaları işaretleniyor.

**Bu iki nokta arasındaki uzaklık kaç birimdir?**

- A)  $\sqrt{6}$     B) 3    C) 4  
D)  $\frac{\sqrt{6}}{2}$     E)  $\frac{\sqrt{3}}{2}$

60. Dik koordinat düzleminde,  $m$  bir pozitif gerçel sayı olmak üzere,

$$y + x = m$$

$$y - \frac{x}{2} = m$$

doğruları ve x-ekseni arasında kalan kapalı bölgenin alanı 24 birimkaredir.

**Buna göre,  $m$  kaç birimdir?**

- A) 1      B) 2      C) 3      D) 4      E) 5

www.medineweb.net



1. Bu testte 60 soru vardır.

2. Cevaplarınızı, cevap kâğıdının Genel Kültür Testi için ayrılan kısmına işaretleyiniz.

1. Tarihte pek çok Türk kavmi, Doğu ve Orta Avrupa ile Balkanlar'a yerleşmiş, zamanla Türk kimliğini yitirerek Hristiyanlaşmıştır.

**Türk kavimlerinin kimliklerini yitirmesinde;**

- I. ana yurtlarından gelen göçlerin azalması,
- II. zamanla bölgedeki siyasi üstünlüklerini kaybetmeleri,
- III. bölgedeki kültürlerle yakın ticari ve sosyal ilişki kurmaları

**durumlarından hangilerinin etkili olduğu savunulabilir?**

- A) Yalnız I                      B) Yalnız II                      C) I ve II  
D) II ve III                      E) I, II ve III

2. 1118-1157 yılları arasında hükümdarlık yapmış olan ve Büyük Selçuklu Devleti'nin son sultanı olarak bilinen kişi aşağıdakilerden hangisidir?

- A) Sencer                              B) Melikşah  
C) Berkyaruk                      D) Muhammed Tapar  
E) Kutalmış

3. • Anadolu Selçuklu Devleti zayıflamaya başladı.  
• Savaş sonrasında Moğolların Anadolu'yu tahrip etmesi ticareti olumsuz etkiledi.  
• Moğolların önünden kaçan Türkmenler daha batıdaki bölgelere yerleşti.

**Bazı sonuçları verilen bu savaş, aşağıdakilerden hangisidir?**

- A) Malazgirt                      B) Miryokefalon                      C) Yassıçemen  
D) Köseadağ                      E) Dandanakan

4. Aşağıdakilerden hangisi XIV. yüzyılda Osmanlı Devleti'nin Balkanlar'a geçişini kolaylaştıran durumlardan biridir?

- A) Anadolu'daki bazı Türk beylerinin Timur'a sığınması  
B) Papalığın, Ortodoks ve Katolik mezheplerini birleştirme çabaları  
C) Karesioğulları'nın deniz gücünün Osmanlı Devleti'ne katılması  
D) Kırım Hanlığı ordusunun Osmanlılara destek vermesi  
E) Bazı Osmanlı şehzadelerinin Bizans Devleti'ne sığınması

5. Kanuni Sultan Süleyman Dönemi'nde donanma gücüyle kuşatılmasına karşın Turgut Reis'in şehit düşmesinin ardından kuşatma kaldırıldığı için ele geçirilememiş olan yer aşağıdakilerden hangisidir?

- A) Malta                              B) Kıbrıs                              C) Rodos  
D) Girit                              E) Sicilya

6. XVI. yüzyılda Osmanlı Devleti'nde eyaletlerin salyaneli ve salyanesiz olarak gruplandırılmasında aşağıdakilerden hangisinin etkisi olduğu savunulabilir?

- A) Timar Sistemi'nin her bölgede uygulanmaması  
B) Her eyaletin gelir miktarının farklı olması  
C) Eyalet sınırlarının çok geniş olması  
D) Eyaletlerde farklı etnik unsurların bulunması  
E) Ülke nüfusunun giderek artması

7. Osmanlılar, Balkanlar'da fethettikleri yerlere Anadolu'dan götördükleri Türkleri yerleştirmişlerdir. Bu yerleştirmelerde özellikle konargöçerleri tercih etmişlerdir.

**Osmanlı Devleti'nin izlediği bu iskân politikasıyla aşağıdakilerden hangisini amaçladığı savunulabilir?**

- A) Komşu ülkelerle iyi geçinmek  
B) Anadolu'daki nüfus yoğunluğunu azaltmak  
C) Fethedilen bölgelerde nüfus dengesini sağlamak  
D) Devşirme usulünü uygulamaya koymak  
E) Kültür etkileşimini önlemek
8. **Yirmisekiz Mehmet Çelebi'nin, Osmanlı elçisi olarak gönderildiği Avrupa şehri aşağıdakilerden hangisidir?**
- A) Paris                      B) Viyana                      C) Berlin  
D) Londra                      E) Roma

9. **Osmanlı Devleti'nde;**

- I. Tanzimat Fermanı'nın hazırlanması,  
II. Meşrutiyet'in ilan edilmesi,  
III. matbaanın kullanılmaya başlanması

**gelişmelerinin hangilerinde, Fransız İhtilali'nin etkisinin olduğu savunulabilir?**

- A) Yalnız I                      B) Yalnız II                      C) Yalnız III  
D) I ve II                      E) II ve III

10. **Reisülküttaplık, II. Mahmut Dönemi'nde aşağıdaki nazırlıklardan hangisine dönüştürülmüştür?**

- A) Maliye                      B) Hariciye                      C) Dâhiliye  
D) Harbiye                      E) Adliye

11. Tarih öğretmeni Ferhat Bey, sınıfında Namık Kemal'in "Eski toplumsal yapıya uygarlığı oturtmanın yolu anayasa ve eğitimle gerçekleşir." sözünü söylemiş ve sınıftaki öğrencilerden XIX. yüzyılda bu söz doğrultusunda yapılan ıslahatlara örnek vermelerini istemiştir.

Öğrencilerden;

- Şamil : I. Meşrutiyet'in ilan edilmesi,
- Halit : Kanunuesasi'nin kabulü,
- Büşra : Rüştüye ve idadilerin açılması,
- Tuğçe : Medreselerin kapatılması

cevaplarını vermişlerdir.

**Buna göre öğrencilerden hangileri yanlış cevap vermiştir?**

- A) Şamil                      B) Tuğçe  
C) Halit ve Büşra                      D) Büşra ve Tuğçe  
E) Şamil ve Halit

12. **Aşağıdakilerden hangisi Rusya'nın, Balkanlar'daki Ortodoks ve Slav toplulukları kışkırtma politikasının da etkisiyle XIX. yüzyılda bağımsız olan devletlerden biri değildir?**

- A) Yunanistan                      B) Bulgaristan  
C) Sırbistan                      D) Karadağ  
E) Arnavutluk

13. **I. Dünya Savaşı'nın sonunda bozulan güçler dengesini yeniden tesis etmeyi amaçlayan ve Avrupa'da yeni bir düzenin kurulmasıyla sonuçlanan konferans aşağıdakilerin hangisinde toplanmıştır?**

- A) Londra                      B) Berlin                      C) Madrid  
D) Paris                      E) Roma

14. Aşağıdakilerden hangisinin açıklaması, karşısında **yanlış** olarak verilmiştir?

- A) Teşkilat-ı Esasiye Kanunu: Yeni Türk devletinin ilk anayasası  
 B) Reddi İlhak Cemiyeti: Yunan işgaline karşı çıkan dernek  
 C) Temsilciler Kurulu: Önce Erzurum, ardından Sivas'ta yapılan kongreler sonucu oluşturulan yürütme kurulu  
 D) Felah-ı Vatan Grubu: Son Osmanlı parlamentosunda kurulan grup  
 E) Meclis-i Müessisan: Son Osmanlı parlamentosu

15. Sivas Kongresi sonrasında oluşturulan, ilk sayısını Eylül 1919'da çıkaran ve bu dönemde Millî Mücadele'nin yayın organı olma özelliğini taşıyan gazete aşağıdakilerden hangisidir?

- A) *İrade-i Milliye*                      B) *İzmir'e Doğru*  
 C) *Tasvir-i Efkâr*                      D) *Yeni Gün*  
 E) *İstikbâl*

16. Mehmet Akif Ersoy tarafından kaleme alınan **İstiklal Marşı** aşağıdakilerin hangisinde millî marş olarak kabul edilmiştir?

- A) Temsilciler Kurulunda  
 B) Mebusan Meclisinde  
 C) Türkiye Büyük Millet Meclisinde  
 D) Sivas Kongresi'nde  
 E) Âyan Meclisinde

17. Aşağıdakilerin hangisinde neden-sonuç ilişkisi **kurulamaz**?

Neden	Sonuç
A) I. İnönü Zaferi'nin kazanılması	Londra Konferansı'nın toplanması
B) İstanbul'un işgal edilmesi	TBMM'nin açılması
C) Türk ordusunun Sakarya Nehri'nin doğusuna çekilmesi	Mustafa Kemal'in başkomutan olması
D) Sakarya Zaferi'nin kazanılması	Misakımillî'nin ilan edilmesi
E) Büyük Taarruz'un zaferle sonuçlanması	Mudanya Mütarekesi'nin imzalanması

18. Saltanatın kaldırılmasının ardından istifa eden Osmanlı Hükümetinin sadrazamı kimdir?

- A) Ahmet İzzet Paşa                      B) Tefik Paşa  
 C) Salih Paşa                              D) Damat Ferit Paşa  
 E) Ali Rıza Paşa

19. Çok partili hayata geçişin ilk denemelerinde, aşağıdakilerden hangisi Terakkiperver Cumhuriyet Fırkası gibi siyasi partilerin kurulmasında etkili olan muhalif grup arasında **yer almamıştır**?

- A) Rauf Orbay                              B) Refet Bele  
 C) Kâzım Karabekir                      D) Ali Fuat Cebesoy  
 E) Fevzi Çakmak

20. • Öğretim programlarının halkın ihtiyaçlarına cevap verecek şekle getirilmesi,  
• eğitim sistemi millî olacak şekilde ilk ve ortaöğretim programlarının düzenlenmesi,  
• okul açılmasının Millî Eğitim Bakanlığının iznine bağlanması

**Bu gelişmeler, aşağıdakilerden hangisiyle gerçekleştirilmiştir?**

- A) Köy Enstitülerinin kurulmasıyla  
B) Maarif Teşkilatı Hakkında Kanun'un çıkarılmasıyla  
C) Yeni Türk harflerinin kabul edilmesiyle  
D) Üniversite Reformu'nun yapılmasıyla  
E) Millet Mekteplerinin açılmasıyla
21. I. Devlet adına para basmak  
II. Ulusal bankalarla rekabet etmek  
III. Türk lirasının değerini korumak

**Yukarıdakilerden hangileri Türkiye Cumhuriyet Merkez Bankasının görevleri arasında yer almaz?**

- A) Yalnız I      B) Yalnız II      C) Yalnız III  
D) I ve II      E) II ve III
22. Atatürk'e göre devletçilik, güçlü ve çağdaş bir devlet meydana getirmenin temel bir aracıdır.
- Devletçilik ilkesinin benimsenmesinde;**
- I. özel teşebbüsün yeterli düzeyde olmaması,  
II. ekonomik ve toplumsal sıkıntıların yaşanması,  
III. 1929 Dünya Ekonomi Krizi'nin ortaya çıkması
- durumlarından hangilerinin etkili olduğu savunulabilir?**
- A) Yalnız I      B) Yalnız III      C) I ve II  
D) II ve III      E) I, II ve III

23. Tarih tezinde Orta Asya ve Anadolu tarihlerini önemseyen Atatürk, özellikle 1930'lu yıllarda tarih çalışmalarına katkıda bulunmuştur.

**Atatürk'ün tarih anlayışıyla ilgili aşağıdakilerden hangisi söylenemez?**

- A) Evrensel olmayan bir tarih anlayışı geliştirmiştir.  
B) Bütünleştirici ve çağdaş bir tarih anlayışını savunmuştur.  
C) Akıl ve bilimi tarih anlayışının merkezine koymuştur.  
D) Türk kültürünün tarihsel gelişim sürecine önem vermiştir.  
E) İslamiyet öncesi Türk tarihinin de araştırılmasına öncelik vermiştir.

24. Montrö Boğazlar Sözleşmesi'nin imzalanmasında;

- I. İtalya'nın Habeşistan'ı işgali,  
II. Almanya'nın Versay Antlaşması'nı ihlal etmesi,  
III. Rodos ve On İki Ada'nın Yunanistan'a verilmesi

**durumlarından hangilerinin etkili olduğu savunulabilir?**

- A) Yalnız I      B) Yalnız II      C) Yalnız III  
D) I ve II      E) I, II ve III

25. **Aşağıdakilerden hangisi II. Dünya Savaşı sırasında, Mussolini'nin iktidardan düşmesinin ardından toplanan ve Almanya'ya karşı Avrupa'da Normandiya kıyılarından ikinci bir cephe açılması kararının alındığı konferanstır?**

- A) Moskova      B) Yalta      C) Kahire  
D) Tahran      E) Quebec

26. Aşağıdakilerden hangisi Marshall Planı'nın amaçları arasında yer alır?

- A) Bloklar arasındaki silahlanmayı sınırlandırmak
- B) ABD'yi Avrupa ülkelerinden soyutlamak
- C) Yugoslavya'nın Doğu Bloku'na katılımını sağlamak
- D) Avrupa ülkelerinde ekonomik kalkınmayı sağlamak
- E) Avrupa Birliği'nin kurulmasına ortam oluşturmak

27. Aşağıdakilerden hangisi 1974 Kıbrıs Barış Harekâtı sonrasında yaşanan gelişmelerden biridir?

- A) Makarios'un Kıbrıs Cumhuriyeti'nin cumhurbaşkanı olması
- B) Adayı Yunanistan'a bağlama girişimlerinin başlaması
- C) Kıbrıs Geçici Türk Yönetimi'nin oluşturulması
- D) Türk Mukavemet Teşkilatı'nın faaliyete geçmesi
- E) Kuzey Kıbrıs Türk Cumhuriyeti'nin kurulması

28. Yükselti arttıkça sıcaklığın düşme oranı Karadeniz kıyı dağlarının kuzey yamaçlarında, güney yamaçlara oranla daha azdır.

**Bu durum aşağıdakilerden hangisiyle ilgilidir?**

- A) Güney yamaçların daha sıcak olmasıyla
- B) Güney yamaçlarda bitki örtüsünün daha seyrek olmasıyla
- C) Kuzey yamaçların daha nemli olmasıyla
- D) Kuzey yamaçlarda eğimin farklı olmasıyla
- E) Kuzey yamaçlarda fön rüzgârlarının etkili olmasıyla

29. Aşağıdakilerden hangisi karstik kökenli bir ova **değildir**?

- A) Tercan
- B) Muğla
- C) Kestel
- D) Elmalı
- E) Suğla

30. Karadeniz Bölgesi'nde yaygın olarak görülen orman güllerinin Nur Dağları yamaçlarında, Akdeniz Flora Bölgesi'ne ait Lübnan Sediri'nin ise Erbaa-Niksar çevresinde yetişmesinin temel sebebi aşağıdakilerden hangisidir?

- A) Toprak şartlarının bu alanlarda bitki isteğine uygun olması
- B) Bu alanların, bitkilerin sıcaklık ve nem isteğine uygun olması
- C) 4. Zaman iklim salınımları sırasında bu alanlara yayılmış olmaları
- D) Bu alanlara ağaçlandırma çalışmalarıyla dikilmiş olmaları
- E) Bu türlerin endemik bitkiler olması

31. Türkiye'de buzulların etkisiyle oluşmuş topografik şekillere ancak yüksek dağlık alanlarda rastlanmaktadır.

**Buna göre aşağıdakilerin hangisinde buzul şekillerine rastlanmaz?**

- A) Erciyes Dağı
- B) Aladağlar
- C) Uludağ
- D) Kaçkar Dağı
- E) Yıldız Dağları

32. Aşağıdakilerden hangisi, Türkiye topraklarının tümü için **en önemli sorundur**?

- A) Tuzluluk
- B) Taşlılık
- C) Erozyon
- D) Kuraklık
- E) Drenaj bozukluğu

33. I. Ereğli Sazlığı  
II. Sultan Sazlığı  
III. Hotamış Sazlığı

Yukarıdakilerin hangileri Konya Kapalı Havzası'nda bulunan sulak alanlardan biri değildir?

- A) Yalnız I      B) Yalnız II      C) Yalnız III  
D) I ve II      E) II ve III

34. Türkiye'nin toprak özellikleriyle ilgili aşağıdakilerden hangisi doğrudur?

- A) Karadeniz Bölgesi'nin yüksek kesimlerindeki topraklarda podzollaşma görülür.  
B) En fazla yıkanmanın olduğu topraklar iç bölgelerdeki platolardadır.  
C) Akdeniz Bölgesi'nin alçak kesimlerindeki topraklarda Terra Rossa oluşumu görülmez.  
D) Kuzeydoğu Anadolu platolarındaki topraklarda organik madde miktarı azdır.  
E) Tuz Gölü Havzası'ndaki topraklarda bitki yetişmez.

35. Lozan Antlaşması çerçevesinde Yunanistan ile Türkiye arasında yapılan göç, hangi göç türüne örnek olarak gösterilebilir?

- A) Tehcir      B) Mübadele      C) İltica  
D) İş gücü      E) Mevsimlik

36. Aşağıdaki illerden hangisinin Trakya Yarımadası'nda toprakları bulunmamaktadır?

- A) Balıkesir      B) Edirne      C) Kırklareli  
D) Çanakkale      E) İstanbul

37. I. Refah düzeyi  
II. Eğitim seviyesi  
III. Nüfus yoğunluğu

Türkiye'nin batı ve doğu illeri arasındaki doğurganlık oranının farklı olmasında yukarıdakilerden hangileri etkilidir?

- A) Yalnız I      B) Yalnız II      C) Yalnız III  
D) I ve II      E) II ve III

38. Sanayi faaliyetleri, Türkiye'deki nüfuslanma sürecinde oldukça önemli bir yer tutmaktadır. Sanayi tesislerinin çok olduğu yerler aynı zamanda nüfus yoğunluğunun da fazla olduğu yerlerdir.



Buna göre, yukarıdaki haritada numaralandırılarak gösterilen yerlerin hangisinde nüfus yoğunluğunun yüksek olmasında sanayi faktörü fazla etkili değildir?

- A) I      B) II      C) III      D) IV      E) V

39. Türkiye’de turizm, 1980’lerden itibaren gelişme göstermeye ve bu doğrultuda turizm çeşitliliği son yıllarda artmaya başlamıştır.

**Buna göre Türkiye’de;**

- I. ekoturizm,
- II. golf turizmi,
- III. kültür turizmi,
- IV. deniz ve kıyı turizmi

**türlerinden hangileri diğerlerine göre daha fazla turist çekmektedir?**

- A) I ve II      B) I ve III      C) II ve III  
D) II ve IV      E) III ve IV

40. • Türkiye-Bulgaristan sınırında yer alır.  
• Kara yolu ve demir yolu geçişi vardır.  
• İşlek ve önemli bir gümrük kapısıdır.

**Bazı özellikleri verilen bu sınır kapısı aşağıdakilerden hangisidir?**

- A) Cilvegözü      B) İpsala      C) Kapıkule  
D) Gürbulak      E) Habur

41. Türkiye’de genellikle sanayi faaliyetlerinin yoğun olduğu kentlerde demir yolu ulaşımı bulunmaktadır.

**Aşağıdaki kentlerden hangisi bu duruma uymamaktadır?**

- A) Kayseri      B) Manisa      C) Gaziantep  
D) Mersin      E) Bursa

42. Türkiye’de bazı iller, sahip oldukları ham maddeler nedeniyle belirli sanayi dallarıyla özdeşleşmişlerdir.

**Aşağıdakilerden hangisi buna örnek verilemez?**

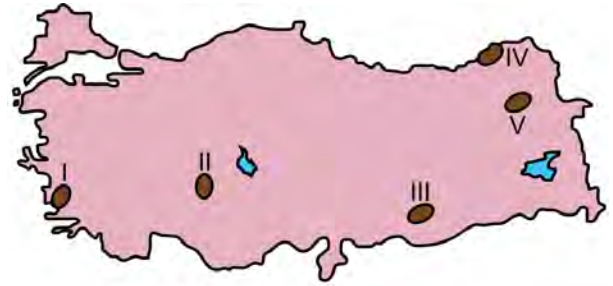
- A) Kars - süt mamulleri  
B) Eskişehir - meyve suyu üretimi  
C) Çanakkale - konserve ürünler  
D) Aydın - pamuklu dokuma  
E) Konya - unlu mamuller

43. I. Bakü-Tiflis-Ceyhan  
II. Mavi Akım  
III. Kerkük-Yumurtalık  
IV. İran-Türkiye  
V. Yumurtalık-Kırıkkale

**Yukarıda verilen boru hatlarının hangilerinde petrol taşımacılığı yapılmaktadır?**

- A) I ve II      B) I ve IV      C) I, III ve V  
D) II, III ve IV      E) III, IV ve V

44. Türkiye’deki kırsal yerleşmelerde yaşayanlar, buldukları bölgenin coğrafi özelliklerine göre farklı ekonomik faaliyetlerde bulunmaktadır.



**Buna göre yukarıdaki haritada numaralandırılarak gösterilen kırsal alanların hangilerinde tarımsal ekonomik faaliyetler daha çok benzerlik gösterir?**

- A) I ve II      B) I ve III      C) I ve V  
D) II ve III      E) III ve IV

45. Aşağıdaki haritada alternatif enerji üretiminin yapıldığı üç alan koyu renkle gösterilmiştir.



Bu alanlar Türkiye’de aşağıdaki enerji kaynaklarından hangisiyle öne çıkmaktadır?

- A) Dalga                      B) Gel-git                      C) Rüzgâr  
D) Jeotermal                      E) Biyomas
46. 1982 Anayasası’na göre, Türkiye Büyük Millet Meclisinin toplantı yeter sayısı en az kaçtır?  
A) 367    B) 330    C) 276    D) 184    E) 139
47. 1982 Anayasası’na göre, Yüksek Seçim Kurulu ile ilgili aşağıdaki ifadelerden hangisi yanlıştır?  
A) Anayasa’nın yasama başlığı altında düzenlenmiştir.  
B) Yedi asıl, dört yedek üyeden oluşur.  
C) Üyeleri Yargıtay ve Danıştay Genel Kurullarınca, kendi üyeleri arasından seçilir.  
D) Kararlarına karşı Anayasa Mahkemesine itiraz başvurusunda bulunulabilir.  
E) Cumhurbaşkanlığı seçim tutanaklarını kabul etmekle görevlidir.

48. 1982 Anayasası’na göre, Türkiye Büyük Millet Meclisi genel seçimlerinden önce çekilmesi gereken üç bakan aşağıdakilerin hangisinde birlikte verilmiştir?

- A) Dışişleri, içişleri, maliye  
B) Dışişleri, maliye, millî savunma  
C) Adalet, içişleri, ulaştırma  
D) Adalet, dışişleri, ulaştırma  
E) İçişleri, maliye, millî savunma

49. Aşağıda verilenlerin hangisinde idarenin bütünlüğünü sağlayan hukuki araç, diğerlerinden farklıdır?

- A) Millî eğitim bakanı-Ağrı il millî eğitim müdürü  
B) Sağlık bakanı-Sağlık Bakanlığı müsteşarı  
C) Karayolları genel müdürü-Karayolları 1. bölge müdürü  
D) Kayseri il nüfus müdürü-Kayseri nüfus memuru  
E) Alaca kaymakamı-Gazipaşa Köyü muhtarı

50. Memur atama işleminin iptali istemiyle açılan bir dava, aşağıdakilerin hangisi tarafından karara bağlanır?

- A) İdari yargı                      B) Adli yargı  
C) Uyuşmazlık Mahkemesi    D) Anayasa yargısı  
E) İlgili bakanlık



51. Danıştay ile ilgili aşağıdaki ifadelerden hangisi **yanlıştır**?

- A) Üyelerinin dörtte üçü Hâkimler ve Savcılar Yüksek Kurulu tarafından seçilir.
- B) 1982 Anayasası'nda yüksek mahkemelerden biri olarak sayılmıştır.
- C) Başkanı, kendi üyeleri arasından cumhurbaşkanınca atanır.
- D) Kamu hizmetleriyle ilgili imtiyaz şartlaşma ve sözleşmeleri hakkında iki ay içinde düşüncesini bildirir.
- E) Kanunla gösterilen belli davalara ilk ve son derece mahkemesi olarak bakar.

52. 4721 sayılı Türk Medeni Kanunu madde 1: Kanunda uygulanabilir bir hüküm yoksa, hâkim, örf ve âdet hukukuna göre, bu da yoksa kendisi kanun koyucu olsaydı nasıl bir kural koyacak idiyse ona göre karar verir.

**Bu parçada altı çizili bölümde aşağıdakilerden hangisi ifade edilmiştir?**

- A) Hâkimin hukuk yaratması
- B) Hâkimin takdir yetkisini kullanması
- C) Kanunlaştırma
- D) Kanunların çatışması
- E) Kanunun yorumlanması

53. Aşağıdakilerden hangisi Türk hukukunda günümüzde kabul edilen yorum çeşitleri veya yöntemlerinden biri **değildir**?

- A) Sistemik yorum
- B) Tarihsel yorum
- C) Lafzi yorum
- D) Yargısal yorum
- E) Yasama yorumu

54. Birden fazla kişinin, kanun veya sözleşme gereği aralarında daha önceden mevcut olan ortaklık bağına dayanarak, belirlenmiş bir payları olmaksızın aynı eşyanın tamamına malik olmaları aşağıdakilerden hangisiyle ifade edilir?

- A) İntifa hakkı
- B) Kat mülkiyeti
- C) Elbirliği mülkiyeti
- D) Rehin hakkı
- E) Zilyetlik

55. 1986 yılında uğradığı suikast sonucu hayatını kaybeden Olof Palme, aşağıdaki ülkelerin hangisinde başbakanlık yapmıştır?

- A) Hollanda
- B) Danimarka
- C) Norveç
- D) Finlandiya
- E) İsveç

56. Aşağıdaki ülkelerden hangisinin bayrağında hilal yoktur?

- A) Tunus
- B) Cezayir
- C) Pakistan
- D) Irak
- E) Azerbaycan

57. Kara delikler konusundaki çalışmalarıyla tanınan, *Zamanın Kısa Tarihi ve Ceviz Kabuğundaki Evren* adlı kitapların yazarı olan fizikçi aşağıdakilerden hangisidir?

- A) James Watson
- B) Stephen Hawking
- C) Alan Turing
- D) Albert Einstein
- E) John Nash

58. İnkâ Uygurlığı'nın ortaya çıktığı bölge aşağıdakilerden hangisidir?
- A) Güney Amerika                      B) Mezopotamya  
C) Kuzey Afrika                        D) Batı Avrupa  
E) Orta Asya
59. 2016 yılının Haziran ayında Kore'de düzenlenen 14. Aerobik Jimnastik Dünya Şampiyonası ve 7. Dünya Yaş Grupları Yarışması'nda, 15-17 yaş grubunda şampiyon olan Türk kadın sporcu aşağıdakilerden hangisidir?
- A) Eda Eyüpoğlu  
B) Ayşe Begüm Onbaşı  
C) Buse Merve Kaplan  
D) Sezin Sürüm  
E) Melisa Morsünbül
60. Aşağıdakilerden hangisi 2016 yılının Ağustos ayında Türkiye Büyük Millet Meclisi Genel Kurulundaki görüşmelerde, il olarak kurulması veya il statüsünün kaldırılması teklif edilen yerlerden biri değildir?
- A) Derecik                      B) Şırnak                      C) Hakkâri  
D) Cizre                        E) Yüksekova

**KAMU PERSONEL SEÇME SINAVI**  
**ÖN LİSANS**  
**16 EKİM 2016**

**GENEL YETENEK TESTİ**

**GENEL KÜLTÜR TESTİ**

1. B	31. D	1. E	31. E
2. B	32. E	2. A	32. C
3. E	33. E	3. D	33. B
4. D	34. B	4. C	34. A
5. C	35. C	5. A	35. B
6. B	36. E	6. A	36. A
7. D	37. B	7. C	37. D
8. C	38. C	8. A	38. D
9. D	39. A	9. D	39. E
10. E	40. C	10. B	40. C
11. B	41. A	11. B	41. E
12. C	42. C	12. E	42. B
13. D	43. A	13. D	43. C
14. A	44. B	14. E	44. D
15. B	45. D	15. A	45. C
16. A	46. D	16. C	46. D
17. D	47. B	17. D	47. D
18. C	48. E	18. B	48. C
19. E	49. B	19. E	49. E
20. D	50. D	20. B	50. A
21. E	51. C	21. B	51. C
22. D	52. C	22. E	52. A
23. A	53. B	23. A	53. E
24. E	54. A	24. D	54. C
25. E	55. E	25. E	55. E
26. C	56. B	26. D	56. D
27. E	57. C	27. E	57. B
28. B	58. B	28. C	58. A
29. A	59. A	29. A	59. B
30. A	60. D	30. C	60. A